

SET-3

Series : GBM/1

کوڈ نمبر  
Code No. 255/1/3

Roll No.

--	--	--	--	--	--	--

رول نمبر

Candidates must write the Code on the title page of the answer-book.

- آپ جانچ کر لیجئے کہ اس پرچہ میں چھپے ہوئے صفحات کی تعداد 7 ہے اور نقشوں کے صفحات کی تعداد 2 ہے۔
- پرچہ کے دائیں طرف چھپے کوڈ نمبر کو طالب علم جواب کاپی کے اوپری صفحہ پر لکھینگے۔
- آپ جانچ لیجئے کہ پرچہ میں 22 سوال ہیں۔
- کسی سوال کا جواب لکھنا شروع کرنے سے پہلے اُسکا سلسلہ نمبر کاپی میں لکھ دیجئے۔
- آپ کو سوالوں کے پرچہ کو پڑھنے کے لیے 15 منٹ کا مزید وقت دیا گیا ہے۔ پرچہ 10 بجکر 15 منٹ تک طلبا میں بانٹ دیا جائیگا۔ 10 بجکر 15 منٹ سے 10 بجکر 30 منٹ تک طلبا پرچہ کو فقط پڑھینگے اور اس دوران میں وہ جواب کاپی میں کوئی جواب نہیں لکھینگے۔

- Please check that this question paper contains 7 printed pages + 2 pages of maps.
- Code number given on the right hand side of the question paper should be written on the title page of the answer-book by the candidate.
- Please check that this question paper contains 22 questions.
- **Please write down the Serial Number of the question before attempting it.**
- 15 minute time has been allotted to read this question paper. The question paper will be distributed at 10.15 a.m. From 10.15 a.m. to 10.30 a.m., the students will read the question paper only and will not write any answer on the answer-book during this period.

جغرافیہ (علم الارض)

GEOGRAPHY (Theory)

مقررہ وقت : 3 گھنٹے

Time allowed : 3 hours

کل نمبر : 70

Maximum marks : 70

عام ہدایات :

- (i) اس پرچہ میں کل 22 سوال ہیں۔
- (ii) سبھی سوال لازمی ہیں۔

(iii) سوال نمبر 1 سے 7 تک کے سوال بہت چھوٹے جواب والے ہیں۔ ان میں سے ہر ایک سوال 1 نمبر کا ہے۔ ان سوالوں کا جواب فی سوال 40 الفاظ سے زیادہ نہ ہو۔

(iv) سوال نمبر 8 تا 13 تک کے سوال چھوٹے جواب والے ہیں۔ ان میں سے ہر سوال 3 نمبر کا ہے۔ ان سوالوں کا جواب فی سوال 80 سے 100 الفاظ تک ہو سکتا ہے۔

(v) سوال نمبر 14 سے 20 تک کے سوال لمبے جواب والے ہیں۔ ان میں سے ہر سوال 5 نمبر کا ہے۔ ان سوالوں کا جواب فی سوال 150 الفاظ سے زیادہ نہ ہو۔

(vi) سوال نمبر 21 اور 22 تک جغرافیائی خصوصیات کو پہچاننے، محل وقوع دکھانے اور ان کے نام لکھنے سے متعلق ہیں۔ ہر ایک 5 نمبر کا ہے۔

(vii) دنیا اور ہندوستان کے خاکے جو آپ کو پرچہ کے ساتھ دیئے گئے ہیں، انہیں اپنی جوابی کاپی کے ساتھ جوڑ کر واپس لوٹانا ضروری ہے۔

(viii) نقشوں کے خاکے بنانے کے لیے سٹینسلوں کے استعمال کی اجازت ہے۔

1. دنیا میں دیہی بستیوں کی مستطیلی طرز کی کوئی دو خصوصیات لکھیے۔  
 $\frac{1}{2} + \frac{1}{2} = 1$

2. غریبی کی سطح سے نیچے آبادی کی سب سے زیادہ شرح ہندوستان کی کس ریاست میں پائی جاتی ہے؟  
1

3. ہندوستان میں کس طرح کی سڑکیں زیادہ تر علاقوں کو آپس میں جوڑنے کا کام کرتی ہیں؟  
1

4. بارش پر منحصر (بارانی) زراعت کو، فصلی موسم میں مٹی میں رطوبت کی دستیابی کی بنیاد پر تقسیم کیجیے۔  
1

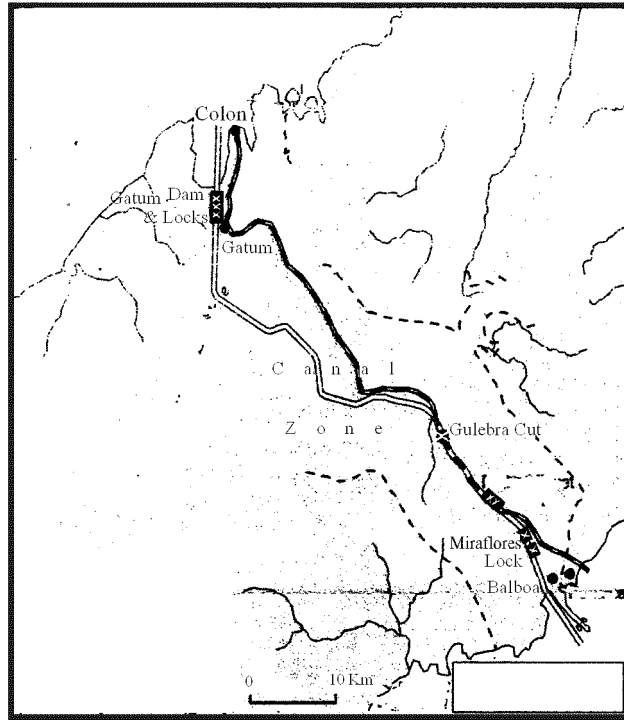
5. ”روس میں ’وولگا‘ سب سے اہم ترقی یافتہ آبی راستوں میں سے ایک ہے۔“ ثابت کیجیے۔ 1

6. عالمی سطح پر خوراک جمع کرنے کے کام کو اہمیت حاصل کرنے کی امید بہت کم کیوں ہے؟ ایک وجہ بیان کیجیے۔ 1

7. نقل و حمل کے نظام میں ’نوڈ‘ (node) کس طرح ’لنک‘ (link) سے الگ ہے؟ 1

8. کولمبیا ریلوے لائن کی کوئی تین خصوصیات بیان کیجیے۔  $3 \times 1 = 3$

9. درج ذیل نقشے کا مطالعہ کیجیے اور اس کے نیچے دیے گئے سوالوں کے جواب لکھیے :  $1 + 2 = 3$



(9.1) اوپر دیے گئے نقشے میں دکھائی گئی نہر کو پہچانئے اور اس کا نام لکھیے۔

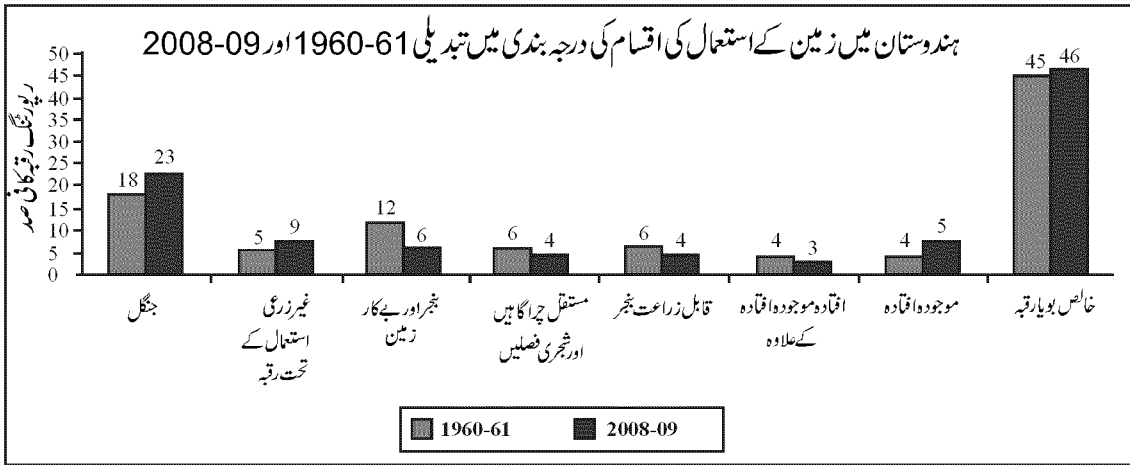
(9.2) اس نہر کی کوئی چار خصوصیات بیان کیجیے۔

نوٹ : درج ذیل سوال صرف ناپینا طلبہ کے لیے سوال نمبر 9 کے بدلے :  
عظیم جھیلیں۔ سنٹ لارنس سمندری راستہ کی کوئی تین خصوصیات بیان کیجیے۔

10. ”فطرت اور بنی نوع انسان غیر منفک (جدانہ ہو سکنے والا) عناصر ہیں۔“ مناسب مثالوں کے ساتھ اس بیان کو ثابت کیجیے۔  
 $3 \times 1 = 3$

11. ہندوستان کی ’جھونپڑی نما دیہی بستیوں‘ اور ’منتشر یا بکھری ہوئی دیہی بستیوں‘ میں کوئی تین فرق بتائیے۔  
 $3 \times 1 = 3$

12. دیے گئے ڈائی گرام کا غور سے مطالعہ کیجیے اور اس کے نیچے دیے گئے سوالوں کے جواب لکھیے :  
 $1 + 2 = 3$



(12.1) کس قسم کی زمین کے استعمال میں سب سے زیادہ اضافہ دکھایا گیا ہے؟ اس مدت میں اس قسم کی

زمین کے استعمال میں کتنے فی صد اضافہ ہوا ہے؟

(12.2) اس قسم کی زمین کے استعمال میں اضافے کے لیے ذمہ دار کوئی دو اسباب بیان کیجیے۔

نوٹ : درج ذیل سوال صرف ناپینا طلبہ کے لیے سوال نمبر 12 کے بدلے :

ہندوستان میں زمین کے استعمال کی کس قسم میں سب سے زیادہ اضافہ پایا گیا ہے؟ اس بڑھتے ہوئے رجحان کے لیے ذمہ دار کوئی دو اسباب بیان کیجیے۔

13. ”فضائی آلودگی سے جانوروں، نباتات اور ملکیت کو بہت زیادہ نقصان ہوتا ہے۔“ کوئی ایسی تین اقدار بیان کیجیے جو کسی حد تک فضا کو آلودگی سے آزاد رکھنے میں مددگار ہو سکتی ہیں۔  
 $3 \times 1 = 3$
14. دنیا کے مختلف حصوں میں کی جانے والی پودکاری/شجرکاری/زراعت کی کوئی پانچ خصوصیات بیان کیجیے۔  
 $5 \times 1 = 5$
15. ”ہندوستان میں غیر مساوی تقسیم آبادی اس بات کی مظہر ہے کہ آبادی اور طبعی اور سماجی و معاشی عوامل کا آپ میں گہرا تعلق ہے۔“ اس بیان کی تائید مناسب مثالوں کے ساتھ کیجیے۔  
 $5 \times 1 = 5$
16. ’گجرات صنعتی علاقے‘ کے ترقی کے لیے ذمہ دار کوئی پانچ عوامل بیان کیجیے۔  
 $5 \times 1 = 5$
17. عمر کی ساخت کا کیا مطلب ہے؟ منثی شکل کا اہرام عمر و جنس کی مثال کے ساتھ بیان کیجیے۔  
 $1 + 4 = 5$
18. انسانی ترقی کا کیا مطلب ہے؟ انسانی ترقی کے چار ستون بیان کیجیے۔  
 $1 + 4 = 5$
19. ”ممکن ہے کہ پانی کی قلت اس کی بڑھتی ہوئی مانگ ہندوستان کا ایک سنگین مسئلہ ہے۔“ اس قول کا تجزیہ کیجیے۔  
 5
20. بڑے پیمانے کی صنعتیں مختلف محل وقوع کا انتخاب کیوں کرتی ہیں؟ صنعتی محل وقوع کو متاثر کرنے والے چار عوامل بیان کیجیے۔  
 $1 + 4 = 5$

21. دنیا کے دیئے گئے سیاسی نقشے میں پانچ جغرافیائی خصوصیات A، B، C، D اور E دکھائی گئی ہیں۔ ان خصوصیات کو

5 پہچانئے اور نیچے دی گئی معلومات کی مدد سے ان کے صحیح نام ان کے نزدیک کھینچی ہوئی لائینوں پر لکھیے :

(A) رقبہ میں یورپ کا ایک بڑا ملک

(B) خود کفالتی اکٹھا کرنے والا علاقہ

(C) پار براعظمی ریلوے کا ایک ٹرمنل اسٹیشن

(D) ایک بڑی بحری بندرگاہ

(E) ایک بین الاقوامی ہوائی اڈا

نوٹ : درج ذیل سوال صرف ناپینا طلبہ کے لیے سوال نمبر 21 کے بدلے :

(21.1) یورپ کے سب سے بڑے رقبہ والے ملک کا نام لکھیے۔

(21.2) خود کفالتی اکٹھا کرنے والے کسی ایک اہم علاقے کا نام لکھیے۔

(21.3) آسٹریلیائی - پار براعظمی ریلوے کا ایک سب سے مغربی اسٹیشن کون سا ہے؟

(21.4) جنوبی امریکہ کے مشرقی ساحل پر واقع کسی ایک بڑی بحری بندرگاہ کا نام لکھیے۔

(21.5) افریقہ کے سب سے جنوبی بین الاقوامی ہوائی اڈے کا نام لکھیے۔

22. ہندوستان کے دیئے ہوئے نقشے کے سیاسی خاکے میں درج ذیل جگہوں کو پہچانئے اور مناسب نشانوں سے دکھائیے

5 اور ان کے نام لکھیے :

(i) سب سے زیادہ شہرکاری ریاست (2011)

(ii) کپاس کی سب سے زیادہ پیداوار کرنے والی ریاست

(iii) پنجاب میں واقع سافٹ ویئر ٹکنالوجی پارک

(iv) چھتیس گڑھ میں واقع کونکہ کی بڑی کان

(v) کرناٹک میں واقع بین الاقوامی ہوائی اڈا

نوٹ : درج ذیل سوال صرف ناپینا طلبہ کے لیے سوال نمبر 22 کے بدلے :

(22.1) ہندوستان کی سب سے زیادہ شہرکاری ریاست کونسی ہے؟

(22.2) ہندوستان کی کپاس کی سب سے زیادہ پیداوار کرنے والی ریاست کا نام لکھیے۔

(22.3) پنجاب میں واقع سافٹ ویئر ٹکنالوجی پارک کا نام لکھیے۔

(22.4) چھتیس گڑھ میں واقع کونکہ کی بڑی کان کا نام لکھیے۔

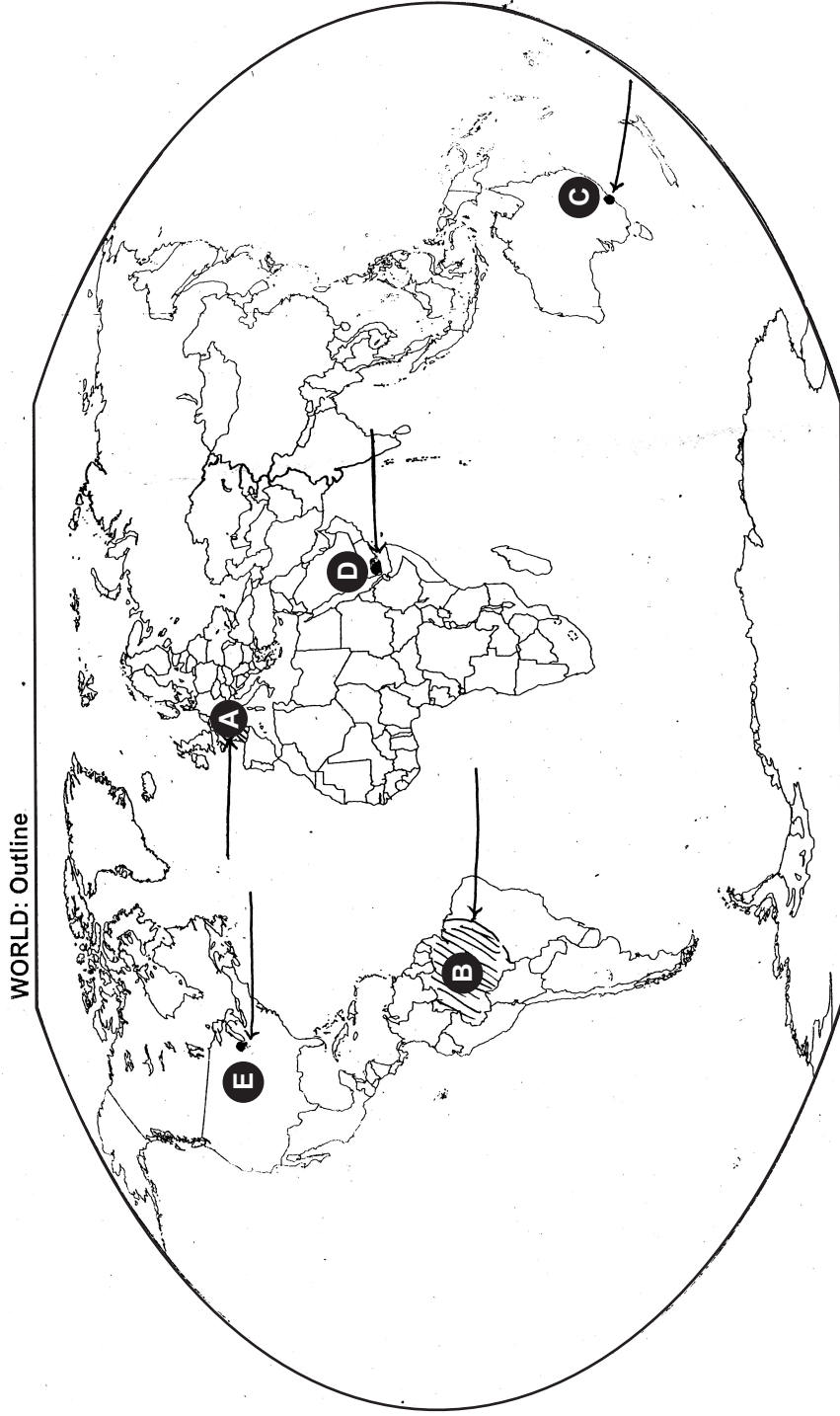
(22.5) کرناٹک میں واقع بین الاقوامی ہوائی اڈا کا نام لکھیے۔





----- Cut Here ----- یہاں سے کاٹیں ----- Cut Here ----- یہاں سے کاٹیں -----

Map for Q. No. 21  
سوال نمبر 21 کے لئے نقشہ





Map for Q. No. 22  
سوال نمبر 22 کے لئے نقشہ

یہاں سے کاٹیں  
Cut Here  
یہاں سے کاٹیں  
Cut Here

